

মডেল অ্যাক্টিভিটি টাস্ক

প্রথম শ্রেণি

পূর্ণমান : ১০

সংযোগ স্থাপনে সক্ষমতা

১। নীচের পাঠটি পড়ো ও কয়েকটি কথায় লেখো :

১×২=২

রাম বনে ফুল পাড়ে। গায়ে তার লাল শাল। হাতে তার সাজি। জবা ফুল তোলে। বেল ফুল তোলে। বেল ফুল সাদা।




(ক) কার পরনে লাল শাল?

(খ) পাঠটিতে সাদা ও লাল ফুলের নাম কী কী?

সময় সাধনে সক্ষমতা

২। দাগ দিয়ে মেলাও :

১×৩=৩

	Bat
	Cap
	Cup

সমস্যা সমাধানে সক্ষমতা

৩। ছবি দেখে ফাঁকা জায়গায় কথা লেখো :

১

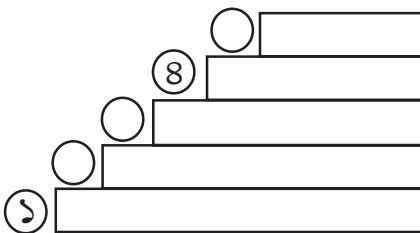
(ক)

ম		ম
ব	ই	ট



(খ) ফাঁকা জায়গায় সংখ্যা লেখো :

৩



ছাত্রছাত্রীরা বাড়িতে নিজের বিষয়ভিত্তিক খাতায় এগুলো করে বিদ্যালয় খুললে শিক্ষকের কাছে জমা দেবে।

কোনো অবস্থাতেই তারা বাড়ির বাইরে বেরোবে না।

৪। নীচের ছবিটি রঙ করো ও ব্যাঙের কাঁটা পা লেখো :

১



ছাত্রছাত্রীরা বাড়িতে নিজের বিষয়ভিত্তিক খাতায় এগুলো করে বিদ্যালয় খুললে শিক্ষকের কাছে জমা দেবে।

কোনো অবস্থাতেই তারা বাড়ির বাইরে বেরোবে না।