

# মডেল অ্যাক্টিভিটি টাস্ক ২০২১

## স্বাস্থ্য ও শারীরশিক্ষা

### প্রথম শ্রেণি

বর্ণ, অক্ষর ও সংখ্যা চেনো

(ক) নীচের ছবিগুলির মধ্যে থেকে বর্ণ/অক্ষর/সংখ্যা খুঁজে বের করো।

১। নীচের কোন ছবিটির মধ্যে 'ক' বর্ণটি লুকিয়ে আছে তা খুঁজে বের করে তার নীচে '✓' চিহ্ন দাও।

i)



ii)



iii)



iv)



২। নীচের কোন ছবিটির মধ্যে 'A' বর্ণটি লুকিয়ে আছে তা খুঁজে বের করে তার নীচে '✓' চিহ্ন দাও।

i)



ii)



iii)

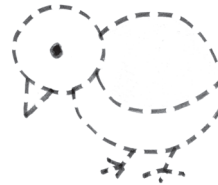



iv)



৩।

এসো আঁকতে শিখি  
একটা হাঁসের ছানা,



নীচের ০ থেকে ৯ পর্যন্ত কোন গাণিতিক সংখ্যাটি দিয়ে নীচের 'রাজহাঁসের ছানা' এই ছবিটি তৈরি করা সম্ভব, তার নীচে '✓' চিহ্ন দাও এবং ছবিতে রং করো।

i) ০

ii) ৯

iii) ৩

iv) ৪

৪।

একটা পাখি এবার  
উঠবে কি গান গেয়ে?



নীচের ০ থেকে ৯ পর্যন্ত কোন গাণিতিক সংখ্যাটি দিয়ে নীচের 'পাখি' এই ছবিটি তৈরি করা সম্ভব, তার নীচে '✓' চিহ্ন দাও এবং ছবিতে রং করো।






i) ০

ii) ৯

iii) ২

iv) ৩

খ। বামদিকের স্তম্ভের সঙ্গে ডানদিকের স্তম্ভ মেলাও এবং মাঝের ছড়ার শূন্যস্থান পূরণ করো :

ক্রমিক সংখ্যা	বামদিক	শূন্যস্থান পূরণ করো	ডানদিক	ক্রমিক সংখ্যা
১		<b>__pple</b> মানে আপেল, আপেল একটি ফল।	<b>Hat</b> হ্যাট	
২		<b>B__t</b> মানে হয় ব্যাট, ক্রিকেট খেলায় লাগে।	<b>Cap</b> ক্যাপ	
৩		<b>Ca__</b> মানে হয় টুপি, পড়বে আমার ভাই।	<b>Bat</b> ব্যাট	
৪		<b>D__ll</b> মানে হয় পুতুল, এটি পুতুল-মেয়ে।	<b>Apple</b> অ্যাপেল	
৫		<b>Foo__ball</b> —খেলার বল, খেলায় সে তো মাতে।	<b>Doll</b> ডল্	
৬		<b>Fi__h</b> মানে হয় মাছ, মাছ তো থাকে জলে।	<b>Football</b> ফুটবল	
৬		<b>Ha__</b> মানে তো টুপি, মাথায় উঠে আসে।	<b>Fish</b> ফিস্	

ছাত্রছাত্রীরা বাড়িতে নিজের বিষয়ভিত্তিক খাতায় এ প্রশ্নগুলোর উত্তর লিখে বিদ্যালয় কর্তৃপক্ষের নির্দেশ মতো অভিভাবকদের মাধ্যমে শিক্ষকদের কাছে জমা দিতে হবে। কোনো অবস্থাতেই শিক্ষার্থীরা বিদ্যালয়ে জমা দিতে আসবে না।