

মডেল অ্যাক্টিভিটি টাস্ক ২০২১

স্বাস্থ্য ও শারীরশিক্ষা

প্রথম শ্রেণি

বর্ণ, অক্ষর ও সংখ্যা চেনো

(ক) নীচের ছবিগুলির মধ্যে থেকে বর্ণ/অক্ষর/সংখ্যা খুঁজে বের করো।

১ × ৪ = ৪

১। নীচের কোন ছবিটির মধ্যে 'ঙ' বর্ণটি লুকিয়ে আছে তা খুঁজে বের করে তার নীচে '✓' চিহ্ন দাও।

(i)



(ii)



(iii)



(iv)



২। নীচের কোন ছবিটির মধ্যে 'V' বর্ণটি লুকিয়ে আছে তা খুঁজে বের করে তার নীচে '✓' চিহ্ন দাও।

(i)



(ii)



(iii)



(iv)



৩। নীচের ০ থেকে ৯ পর্যন্ত কোন গাণিতিক সংখ্যাটি দিয়ে নীচের 'ফুলের পাপড়ি' এই ছবিটি তৈরি করা সম্ভব, তার নীচে '✓' চিহ্ন দাও এবং ছবিতে রং করো।

এবার পাপড়ি হল
হয়নি কোনো ভুল।



i) ০


ii) ৫

iii) ৬

iv) ৩

৪। নীচের ০ থেকে ৯ পর্যন্ত কোন গাণিতিক সংখ্যাটি দিয়ে নীচের 'হাঁসের' এই ছবিটি তৈরি করা সম্ভব, তার নীচে '✓' চিহ্ন দাও এবং ছবিতে রং করো।

হাঁসটা কেমন দ্যাখো
জলেই ভেসে যায়।



i) ০

ii) ৯





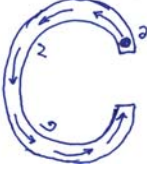

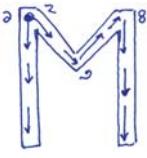

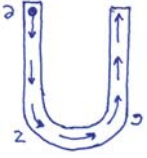



iii) ৭

iv) ৫

শিক্ষার্থীদেরকে বাড়িতে নিজের বিষয়ভিত্তিক খাতায় এ প্রশ্নগুলোর উত্তর লিখে বিদ্যালয় কর্তৃপক্ষের নির্দেশমতো অভিভাবকদের মাধ্যমে শিক্ষকদের কাছে জমা দিতে হবে। কোনো অবস্থাতেই শিক্ষার্থীরা বিদ্যালয়ে জমা দিতে আসবে না।

খ। নীচের ছকের নির্দেশ মতো কাজগুলি করো :

১ × ৬ = ৬

ক্রমিক সংখ্যা	অক্ষর লেখার পদ্ধতি	পাশের বর্ণটি যেমন আছে তেমন লেখো	ছবি	পাশে দেওয়া ছবিটিতে কী দেখতে পাচ্ছে তা লেখো
১			 Ant অ্যান্ট	যেমন - পিঁপড়ে
২			 Soap সোপ
৩			 Cap ক্যাপ
৪			 Mat ম্যাট
৫			 Umbrella আমব্রেলা
৬			 Zig zag জিগ্-জ্যাগ

নাম :

ক্লাস : রোল নং :

বিদ্যালয়ের নাম :