

মডেল অ্যাক্টিভিটি টাস্ক  
সংযোগ স্থাপনে সক্ষমতা  
Ability to Communicate  
দ্বিতীয় শ্রেণি

১। ক) শূন্যস্থান পূরণ করো (প্রথমটি করে দেওয়া হল) :

জ + ঙ্গ + ল = জঙ্গল

ম + \_\_\_\_\_ + ল = \_\_\_\_\_

ল + ব + \_\_\_\_\_ = \_\_\_\_\_

অ + ঙ্ক + \_\_\_\_\_ = \_\_\_\_\_

খ) Circle the capital letters (বড় হাতের অক্ষর গুলিতে গোল চিহ্ন দাও) :

We play on Sunday.

She is Tanisha.

I am an Indian.

গ) ৮৫ সংখ্যাটি উলটে লিখলে তার মান বাড়বে না কমবে?

২। ক) বাক্স থেকে যুক্তাক্ষর নিয়ে শূন্যস্থানে বসাতো :

মো \_\_\_\_\_ ব

পা \_\_\_\_\_

বি \_\_\_\_\_

খ \_\_\_\_\_ ন

|     |    |
|-----|----|
| চ্ছ | ঙঙ |
| ঠ্য | ঙ  |

খ) Choose words from the list and write beside the words with same sound (একই রকম উচ্চারণ বিশিষ্ট শব্দের পাশে শব্দ লেখো) :

Fig, \_\_\_\_\_, \_\_\_\_\_, \_\_\_\_\_

Bug, \_\_\_\_\_, \_\_\_\_\_, \_\_\_\_\_

Men, \_\_\_\_\_, \_\_\_\_\_, \_\_\_\_\_

**List:** hen, wig, tug, ten, dig, jug, den, hug, big

গ) শূন্যস্থানে সংখ্যা লেখো (প্রথমটি করে দেওয়া হলো) :

৪ < ৫ < ৬ < ৭ < ৮ < ৯

১১ < ○ < ○ < ○ < ○ < ○

২১ < ○ < ○ < ○ < ○ < ○

ছাত্রছাত্রীরা বাড়িতে নিজের বিষয়ভিত্তিক খাতায় এগুলো করে বিদ্যালয় খুললে শিক্ষকের কাছে জমা দেবে।

কোন অবস্থাতেই তারা বাড়ির বাইরে বেরোবে না।

মডেল অ্যাক্টিভিটি টাস্ক  
সমন্বয় সাধনে সক্ষমতা  
Ability to Correlate  
দ্বিতীয় শ্রেণি

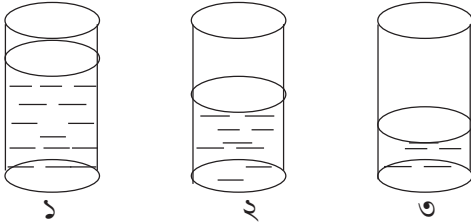
১। ক) স্তম্ভ মেলাও :

|         |     |
|---------|-----|
| ত + ত   | ত্র |
| র + গ   | ঙ্গ |
| ত + র   | ত্ত |
| জ + ত্র | র্গ |

খ) Match the columns :

| A      | B      |
|--------|--------|
| banana | black  |
| milk   | green  |
| grass  | blue   |
| sky    | yellow |
| hair   | white  |

গ) শূন্যস্থানে শব্দ বসানো :



২ নম্বর গ্লাসে ১ নম্বর গ্লাসের থেকে \_\_\_\_\_ জল আছে কিন্তু

৩ নম্বর গ্লাসের থেকে \_\_\_\_\_ জল আছে।

১ নম্বর গ্লাসে সবচেয়ে \_\_\_\_\_ জল আছে।




৩ নম্বর গ্লাসে সবচেয়ে \_\_\_\_\_ জল আছে।

২। ক) বসন্তকাল তোমার কেমন লাগে লেখা।

খ) Fill in the chart :

| Number of days | Name of the month / months |
|----------------|----------------------------|
| 28 days        |                            |
| 30 days        |                            |
| 31 days        |                            |

গ) স্তম্ভ মেলাও :

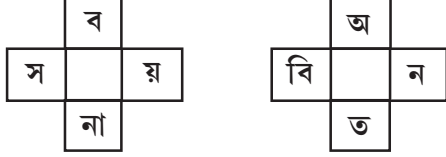
|  |    |
|--|----|
| <br>5 rupee coin + one rupee coin | 3  |
| <br>10 rupee coin + 2 rupee coin  | 6  |
| <br>2 rupee coin + 1 rupee coin   | 12 |

ছাত্রছাত্রীরা বাড়িতে নিজের বিষয়ভিত্তিক খাতায় এগুলো করে বিদ্যালয় খুললে শিক্ষকের কাছে জমা দেবে।

কোন অবস্থাতেই তারা বাড়ির বাইরে বেরোবে না।

মডেল অ্যাক্টিভিটি টাস্ক  
সমস্যা সমাধানে সক্ষমতা  
Ability in Problem Solving  
দ্বিতীয় শ্রেণি

১। ক) ঘর পূরণ করো :



খ) Fill in the blanks with names of seasons : ঋতুর নাম লিখে শূন্যস্থান পূরণ করো :

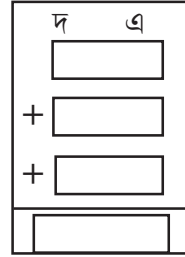
black clouds, rain : \_\_\_\_\_

very hot, dry pond : \_\_\_\_\_

cold wind, sweater : \_\_\_\_\_

new leaf, flowers : \_\_\_\_\_

গ) বলগুলি গুণে শূন্যস্থানে লেখো ও পাশের চিত্রটি পূর্ণ করো :



২। ক) নীচের শব্দগুলিতে কোনটি মাসের নাম আর কোনটি ঋতুর নাম তা আলাদা করে স্তম্ভে লেখো :

বৈশাখ, শরৎ, আশ্বিন, হেমন্ত, ভাদ্র, অশ্রাণ, গ্রীষ্ম, বর্ষা, শ্রাবণ, বসন্ত

| ঋতু | মাস |
|-----|-----|
|     |     |

খ) Answer the following questions (নীচের প্রশ্নগুলির উত্তর লেখ। প্রথমটি করে দেওয়া হলো) :



• What is this?

Ans. This is the sun.



• What is this?

Ans. \_\_\_\_\_



• What is this?

Ans. \_\_\_\_\_

গ) ১৫ সংখ্যাটি কতরকমভাবে লেখা যায় তা লেখো। প্রথমটি করে দেওয়া হল :

$$\boxed{৮} + \boxed{৭} = ১৫$$

$$\boxed{\phantom{৮}} + \boxed{\phantom{৭}} = ১৫$$

$$\boxed{\phantom{৮}} + \boxed{\phantom{৭}} = ১৫$$

$$\boxed{\phantom{৮}} + \boxed{\phantom{৭}} = ১৫$$

ছাত্রছাত্রীরা বাড়িতে নিজের বিষয়ভিত্তিক খাতায় এগুলো করে বিদ্যালয় খুললে শিক্ষকের কাছে জমা দেবে।


কোন অবস্থাতেই তারা বাড়ির বাইরে বেরোবে না।

মডেল অ্যাক্টিভিটি টাস্ক  
শারীরিক ও মানসিক সমন্বয় সাধনে সক্ষমতা  
Ability in Physical and Mental Integration  
দ্বিতীয় শ্রেণি


১। ক) নীচের ছবিটি রং করো। ছবিটি দেখে বাংলায় তিনটি বাক্য লেখো :



খ) Draw the pictures of the sun and a mango. Colour the pictures. Write one sentence about the sun and the mango (সূর্য ও আমের ছবি আঁকো। রং করো। তারপর একটি করে বাক্য সূর্য ও আমের সম্বন্ধে লেখো।) :

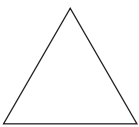


Sun




Mango

২। নীচের আকারগুলির ছবি আঁকো ও রং করো।




Blue



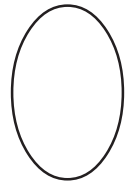
Red



Yellow



Green



Yellow

ছাত্রছাত্রীরা বাড়িতে নিজের বিষয়ভিত্তিক খাতায় এগুলো করে বিদ্যালয় খুললে শিক্ষকের কাছে জমা দেবে।  
কোন অবস্থাতেই তারা বাড়ির বাইরে বেরোবে না।